

# Učíme sa doma – úlohy pre žiakov III.B v týždni od 20.04.2020 do 24.04.2020



Milí žiaci, zasielam vám úlohy na ďalší týždeň. Budem veľmi rada, ak mi dáte vedieť, ako ste to zvládli. Ak niečomu nebudete rozumieť, kontaktujte ma na emailovej adrese: [zssnp13.bibianahozzova@gmail.com](mailto:zssnp13.bibianahozzova@gmail.com)  
Triedna učiteľka: Mgr. Bibiána Hozzová

**PONDELOK 20.04.2020**

## **MATEMATIKA**

**1. Opakovanie – trojciferné čísla, počítaj po 10 aj po 100 naspäť.**

100	90	80	70	60	50	40	30	20	10
1000	900	800	700	600	500	400	300	200	100

**2. Čísla skáču po 10 naspäť, doplň číselný rad.**

150	140				100	90				50	
450	440				400	390				350	
157	147				107	97	87			57	
357	347				307	297	287			257	
761	751				711	701				661	
961	951			921					871		

**3. Vypočítaj.**

– Prepíš si príklady do malých zošitov.

$$56 - 10 = \underline{\quad\quad} \quad 75 - 10 = \underline{\quad\quad} \quad 28 - 10 = \underline{\quad\quad} \quad 42 - 10 = \underline{\quad\quad}$$

$$287 - 10 = \underline{\quad\quad} \quad 575 - 10 = \underline{\quad\quad} \quad 128 - 10 = \underline{\quad\quad} \quad 642 - 10 = \underline{\quad\quad}$$

$$487 - 10 = \underline{\quad\quad} \quad 475 - 10 = \underline{\quad\quad} \quad 928 - 10 = \underline{\quad\quad} \quad 842 - 10 = \underline{\quad\quad}$$

#### 4. Vyrieš príklady na odčítanie:

– pomôž si vzorom vedľa zadania.

$823 - 50 =$   813, 803, 793, 783, 773  
 $625 - 30 =$   \_\_\_\_\_  
 $874 - 90 =$   \_\_\_\_\_  
 $373 - 70 =$   \_\_\_\_\_  
 $592 - 60 =$   \_\_\_\_\_  
 $704 - 10 =$   \_\_\_\_\_  
 $236 - 50 =$   \_\_\_\_\_

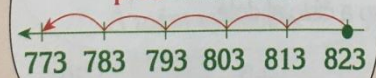
**VZOR:**

Ak vieš skákať po 10 naspäť, mal by si vedieť vypočítať príklad:



$823 - 50 = \dots$


Skáčem po 10.  
Hľadám **piate** číslo  
**pred** číslom 823.



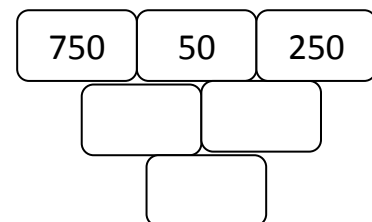
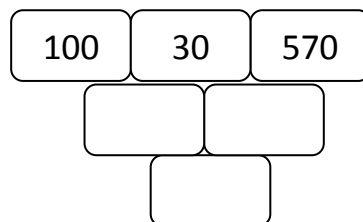
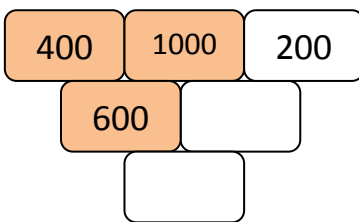
A mám výsledok.

#### Nezabudni odoberať len celé desiatky.

– Pomôž si číselným pásikom.



#### 5. Dopln odčítacie pyramídy:



UTOROK 21.04.2020

## MATEMATIKA

### 1. Odpíš do zošitov a vypočítaj.

$345 - 4 = \underline{\hspace{2cm}}$

$516 - 6 = \underline{\hspace{2cm}}$

$741 - 1 = \underline{\hspace{2cm}}$

$345 - 40 = \underline{\hspace{2cm}}$

$561 - 60 = \underline{\hspace{2cm}}$

$741 - 40 = \underline{\hspace{2cm}}$

## 2. Vypočítaj.

– Najprv odčítaj jednotky a potom desiatky.

$786 - 45 = 741$

$289 - 25 = \underline{\quad}$

$697 - 31 = \underline{\quad}$

$269 - 35 = \underline{\quad}$

$438 - 25 = \underline{\quad}$

$865 - 35 = \underline{\quad}$

## 3. Čísla skáču po 100, doplň číselný rad.

500	600				
240	340				
173	273				
346	446				
479	579				
550	650				

## 4. Doplň správny výsledok.

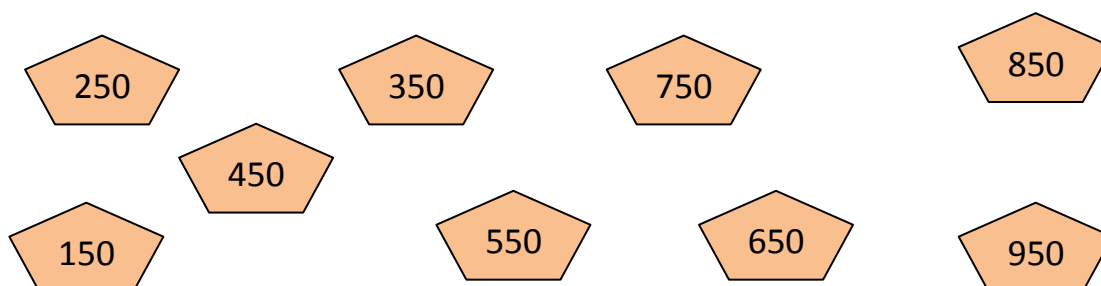
$9 - 5 = 4$	$6 - 4 =$	$10 - 7 =$	$7 - 2 =$
$900 - 500 = 400$	$600 - 400 =$	$1000 - 700 =$	$700 - 200 =$

$5 - 3 =$	$10 - 1 =$	$7 - 2 =$	$8 - 3 =$
$500 - 300 =$	$1000 - 100 =$	$700 - 200 =$	$800 - 300 =$

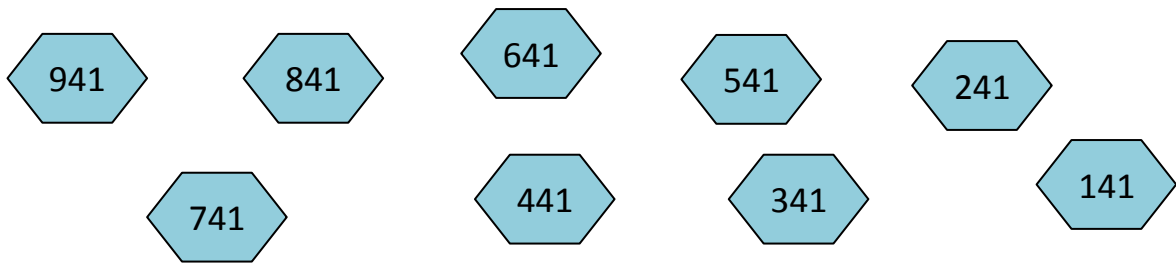
STREDA 22.04.2020

## MATEMATIKA

1. Pospájaj čísla od najmenšieho po najväčšie a napíš ich na riadok alebo do zošita.



**2. Pospájaj čísla od najväčšieho po najmenšie a napíš ich na riadok alebo do zošita.**



**3. Vypočítaj, príklady si prepíš do zošita.**

– Najprv pripočítaj jednotky a potom desiatky.

$246 + 32 = 278$

$236 + 23 = \underline{\quad}$

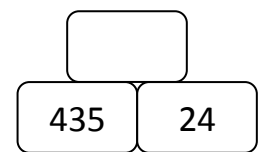
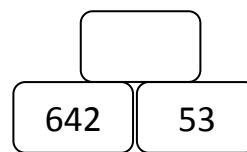
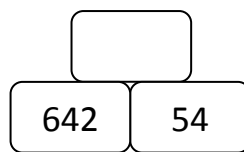
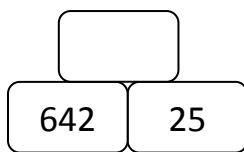
$647 + 31 = \underline{\quad}$

$561 + 35 = \underline{\quad}$

$432 + 54 = \underline{\quad}$

$815 - 34 = \underline{\quad}$

**4. Dopln sčítacie pyramídy.**



**5. Vyrieš slovnú úlohu.**

Spočítaj koľko eur má v peňaženke mamka a koľko eur má v peňaženke ocko.

**Koľko eur majú spolu?**



	+		=	
--	---	--	---	--

Spolu majú  eur.

## MATEMATIKA

### 1. Oprav chyby, do rámečka napíš správny výsledok.

$564 + 3 = 567$	✓	$563 + 30 = 594$		$563 + 35 = 597$	
$421 + 5 = 428$	446	$436 + 20 = 456$		$444 + 44 = 488$	
$356 + 2 = 357$		$752 + 40 = 792$		$853 + 14 = 877$	

### 2. Opakovanie– trojčiferné čísla, počítaj po 100.

100	200	300	400	500	600	700	800	900	1000
-----	-----	-----	-----	-----	-----	-----	-----	-----	------

### 3. Vyrieš príklady na sčítanie.

- Pomáhaj si číselným pásikom v úlohe číslo 2.
- Pomôž si vzorom vedľa zadania:

$323 + 400 =$    $423, 523, 623,$

$615 + 300 =$    $915,$  \_\_\_\_\_

$824 + 400 =$   \_\_\_\_\_

$373 + 200 =$   \_\_\_\_\_

$300 + 423 =$   \_\_\_\_\_

$200 + 548 =$   \_\_\_\_\_

$136 + 300 =$   \_\_\_\_\_

**VZOR:**


Ak vieš skákať po 100, mal by si vedieť vypočítať príklad:

$323 + 400 = \dots$


Skáčem po 100. Hľadám štvrté číslo za číslom 323.

A mám výsledok.



### 4. Spočítaj eurá v geometrických tvaroch



€



€



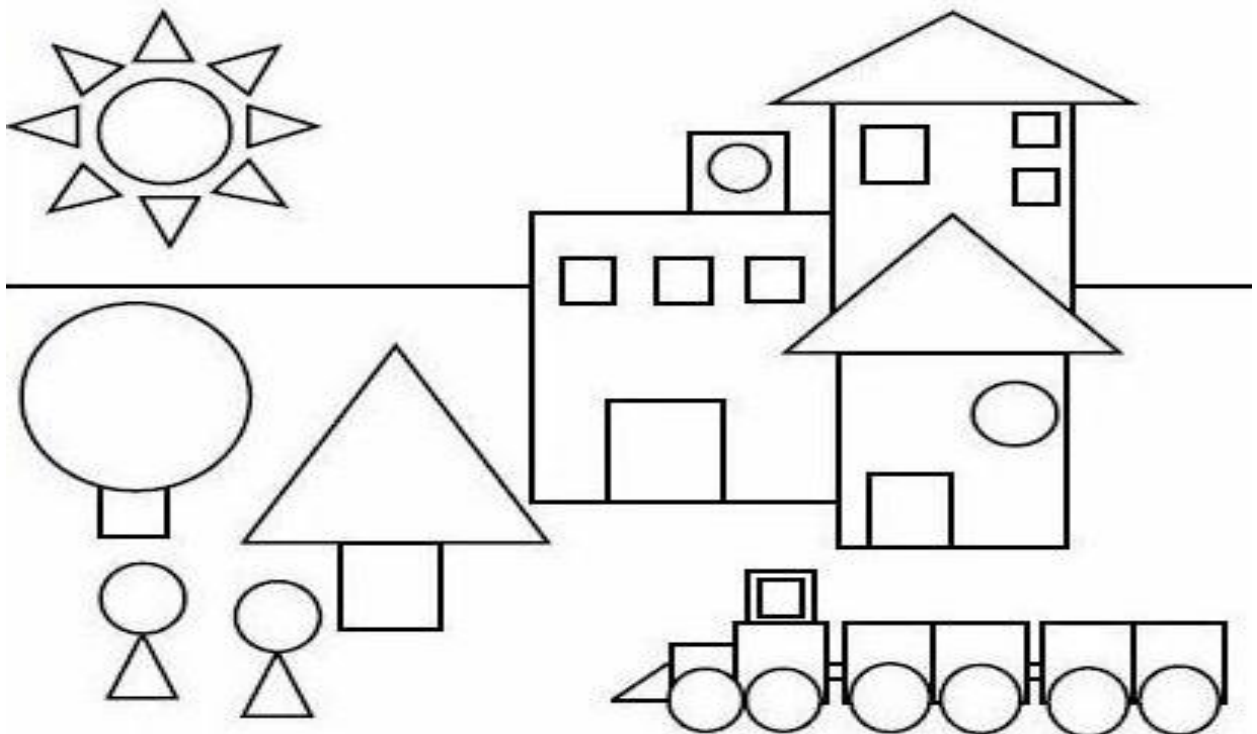
PIATOK 24.04.2020

## MATEMATIKA



### 1. Vyfarbi geometrické tvary:

- zelenou trojuholníky,
- červenou štvorce,
- modrou obdĺžniky,
- žltou kruhy.

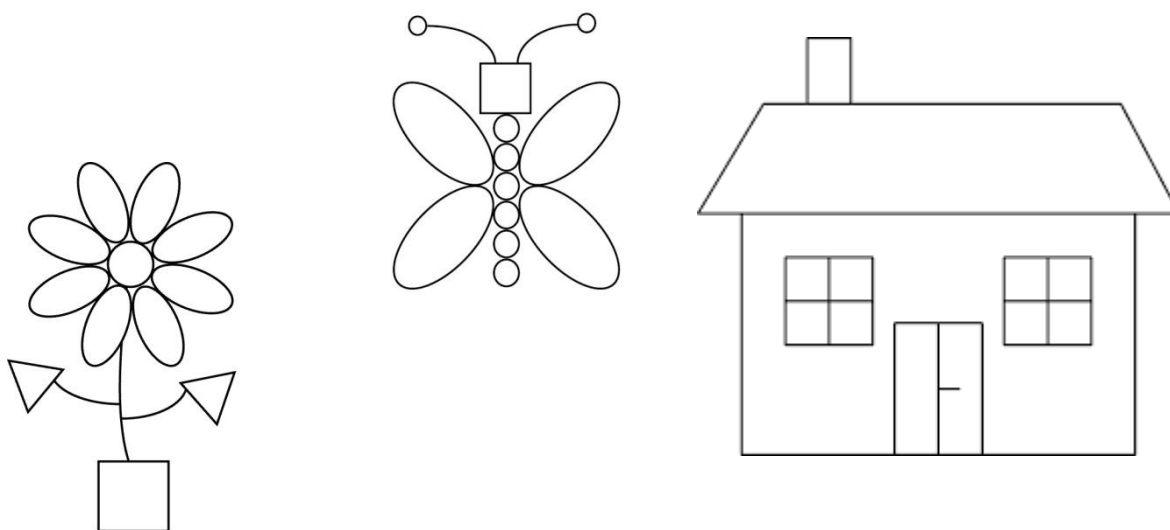


## 2. Porátaj na obrázku z úlohy číslo 1:

- počet trojuholníkov \_\_\_\_\_ ,
- počet štvorcov \_\_\_\_\_ ,
- počet kruhov \_\_\_\_\_ ,
- počet obdĺžnikov \_\_\_\_\_ .

## 3. Nakresli si na papier obrázok z geometrických tvarov.

- Pomôž vzorovými obrázkami.



Takto sa hodnotím:

