


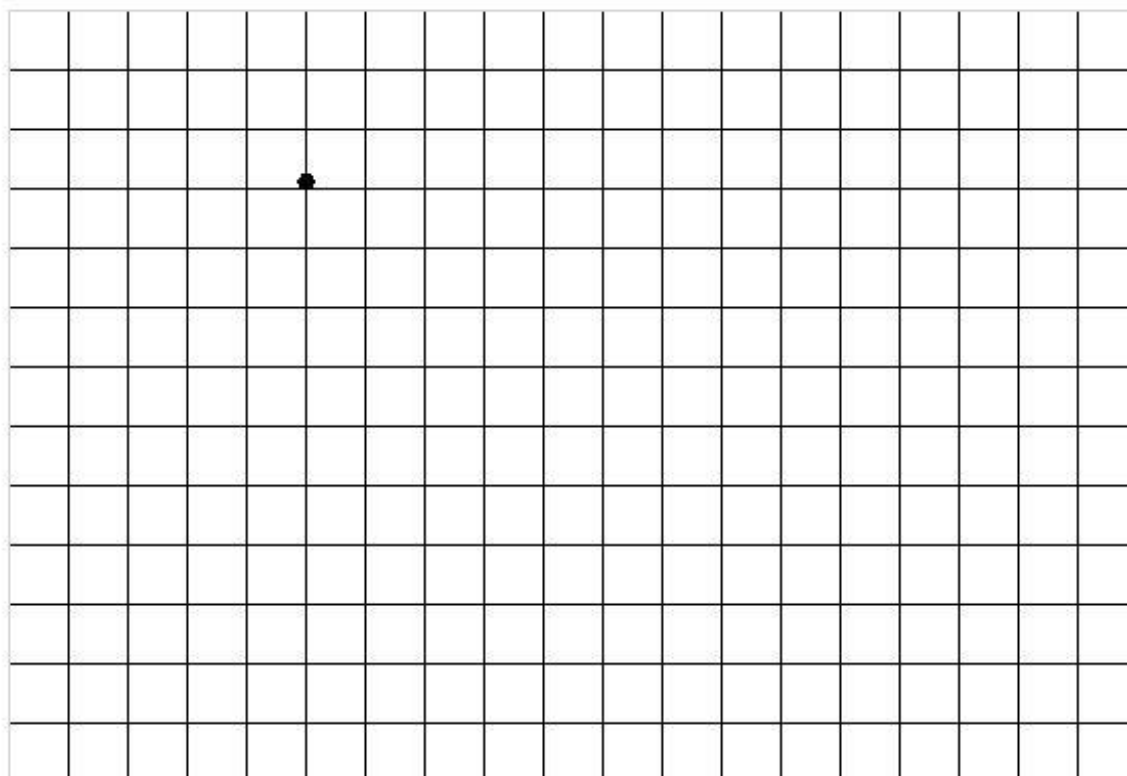
1. Zaznacz na róży wiatrów GŁÓWNE (wschód, zachód, północ, południe) ORAZ POŚREDNIE KIERUNKI ŚWIATA (północny wschód, północny zachód, południowy wschód, południowy zachód), używając symboli międzynarodowych (N,S,E,W)



2. Narysuj na kartce w kratkę taką siatkę:

13x19 kratak (jeśli posiadasz drukarkę, możesz wydrukować)

Zaznacz kropkę dokładnie w tym samym miejscu co tutaj.



Od miejsca, w którym jest kropka zaczynamy naszą zabawę

Proszę rysować linię wg podanych poniżej wskazówek:

1N

2SE

8E

1SE

1E

1SW

2S

1SW

1SE

1SW

2W

1NE

1NW

5W

2SW

2W

2NE

1N

1NW

2W

1NW

1NE

1N

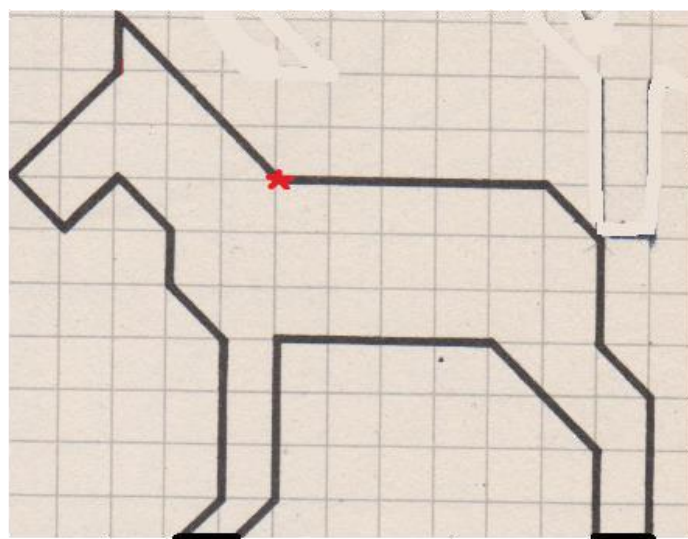
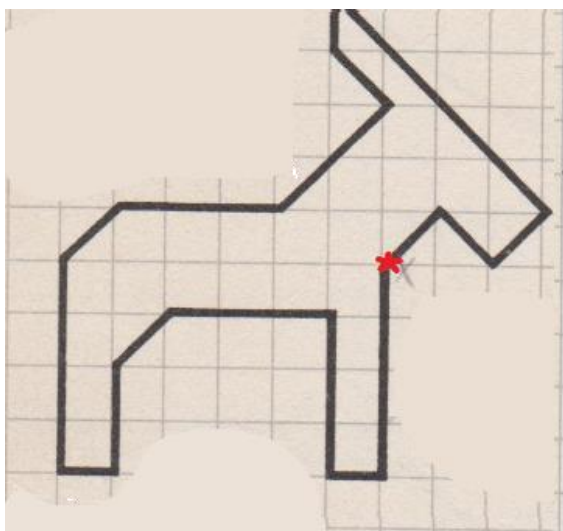
1NE

1E

Hurra! Dotarliśmy do punktu początkowego

Co widzisz? :)

Zadanie 3. Napisz, o ile kratek i w którym kierunku należy się poruszać, aby narysować tę postać (do wyboru – koń lub koza). Zaczynamy od miejsca oznaczonego czerwoną gwiazdką i poruszamy się zgodnie z kierunkiem wskazówek zegara



Zadanie 4. Określ, na jakich półkulach znajdują się punkty A, B, C, D, E, F, G

