

Úlohy pre žiakov III.A

v týždni od 8.6.2020 do 12.6.2020

Triedna učiteľka: Mgr. Gabriela Švantnerová

Milí tretiaci, pripravila som vám úlohy na ďalší týždeň.

Dúfam, že sa vám budú páčiť a hravo to zvládnete, ale ak predsa nebudete
niečo vedieť,

kontaktujte ma: email: zssnp13.gabrielasvantnerova@gmail.com


Vlastiveda

Téma: Miestna krajina

Obsah vzdelávacej činnosti je upevnenie a opakovanie učiva.


Časť územia, ktorú vidíme v okolí nášho bydliska, sa nazýva miestna krajina. Poznáme niekoľko typov krajín. Krajinu s rovným povrchom voláme rovina. Rovinatá krajina je bez kopcov, vrchov a hôr.

Krajina, ktorá nemá rovný povrch, je hornatá krajina. Je tvorená z vrchov, kopcov a hôr.




Človek svojím pôsobením krajinu mení a pretvára. Jeho pôsobením vznikli vidiecke a mestské krajiny.

Mestská krajina je husto zastavaná. Je tam množstvo ulíc, budov a parkov. Vo vidieckych krajinách sú dediny, lesy, polia, lúky a pasienky.



Vyfarbi ● , čo tvorí mestskú krajinu. Vyfarbi ● , čo tvorí vidiecku krajinu.

V jednom prípade môžeš použiť aj obe farby.



Vyfarbi ● , čo tvorí hornatú krajinu. Vyfarbi ● , čo tvorí rovinatú krajinu.

V jednom prípade môžeš použiť aj obe farby.



Doplň do viet slová: **(mestské, pretvára, vidiecke, veselé, mení, roviny, miestna krajina, hornaté, vlnokové, upratuje)**

Časť územia, ktorú vidíme v okolí nášho bydliska, sa nazýva _____

_____ . Krajiny s rovným povrchom voláme

_____ .

Krajiny, ktoré nemajú rovný povrch, sú _____
krajiny. Človek

svojím pôsobením krajinu _____ a _____. Jeho
pôsobením

vznikli _____ a _____ krajiny.

Roztried', čo patrí do mestskej krajiny a čo do vidieckej.

horáreň, TESCO, kino, lúka, pole, panelák

Mestská krajina	Vidiecka krajina

Obec, v ktorej bývam, sa volá

_____.

Je to mesto? _____