

**Úlohy pre žiakov II. ročníka v týždni od 20. 4. - 24. 4. 2020 z predmetu  
Matematika**

**Téma: Sčítanie a odčítanie prirodzených čísel v obore do 30.**

**Milí žiaci, posielam Vám úlohy na tento týždeň.**

**1. Napíš číselný rad do 30**

1					6			9	
		13					18		
				24					30

**2. Znázorni graficky**

14  \_\_\_\_\_

27 \_\_\_\_\_

26 \_\_\_\_\_

11 \_\_\_\_\_

18 \_\_\_\_\_

9 \_\_\_\_\_

30 \_\_\_\_\_

22 \_\_\_\_\_

5 \_\_\_\_\_

17 \_\_\_\_\_

**3. Vypočítaj**

$20 + 4 = \underline{\quad}$

$21 + 5 = \underline{\quad}$

$21 - 0 = \underline{\quad}$

$23 + 2 = \underline{\quad}$

$22 + 5 = \underline{\quad}$

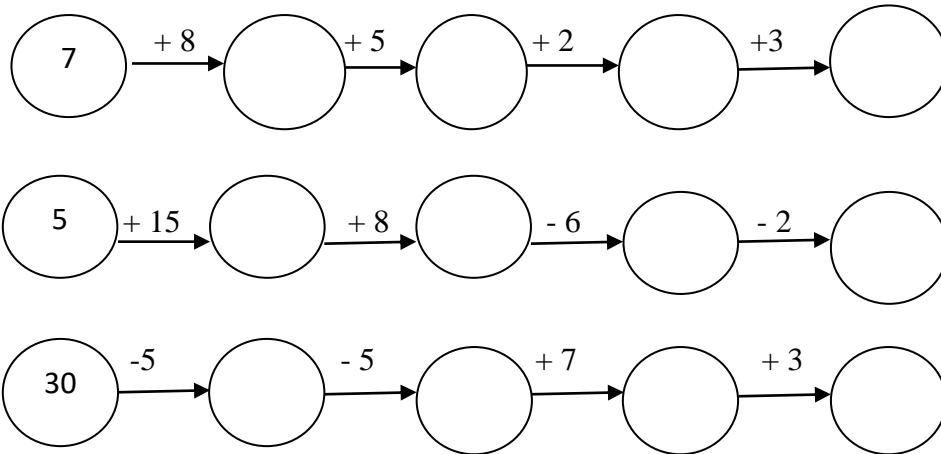
$27 - 3 = \underline{\quad}$

$24 - 3 = \underline{\quad}$

$26 - 3 = \underline{\quad}$

$28 + 1 = \underline{\quad}$

### 1. Vypočítaj reťazovky



### 2. Doplň postupnosť

13, 14, 15, \_\_\_\_\_, \_\_\_\_\_, \_\_\_\_\_, \_\_\_\_\_, \_\_\_\_\_, \_\_\_\_\_

21, 22, 23, \_\_\_\_\_, \_\_\_\_\_, \_\_\_\_\_, \_\_\_\_\_, \_\_\_\_\_, \_\_\_\_\_

10, 12, 14, \_\_\_\_\_, \_\_\_\_\_, \_\_\_\_\_, \_\_\_\_\_, \_\_\_\_\_, \_\_\_\_\_

### 3. Rieš slovnú úlohu

Lenka mala 21 cukríkov. Anička jej dala ešte 6 cukríkov.  
Koľko cukríkov mala Lenka spolu?

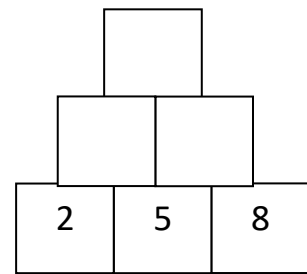
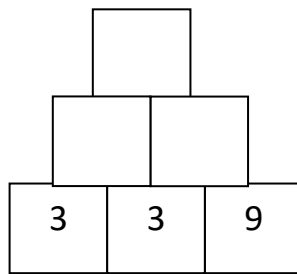
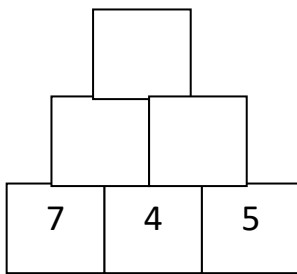
Mala .....

Dala .....

Spolu ..... ? \_\_\_\_\_

Lenka mala spolu zostalo  cukríkov.

### 1. Vyrieš sčítacie pyramídy



### 2. Koľko eur ti zostalo po nákupe? Pracuj podľa vzoru.

Ostalo: 72 €

77 - 5

Ostalo: \_\_\_\_\_ €

\_\_\_\_\_

Ostalo: \_\_\_\_\_ €

\_\_\_\_\_

Ostalo: \_\_\_\_\_ €

\_\_\_\_\_

### 3. Vyplň sčítaciu tabuľku

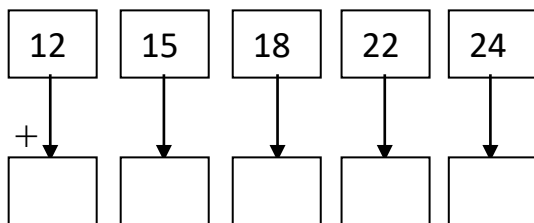
+		3	4	5	6
	5				
	8				
	12				
	20				

### 1. Vypočítaj a porovnaj:

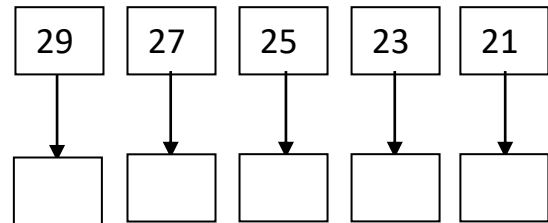
$28 - 7$	<input type="text"/>	$26 - 6$	$12 + 7$	<input type="text"/>	$4 + 17$	$28 - 4$	<input type="text"/>	$14 - 5$
$14 + 4$	<input type="text"/>	$17 + 2$	$6 + 11$	<input type="text"/>	$18 + 5$	$26 - 0$	<input type="text"/>	$25 - 4$
$5 + 21$	<input type="text"/>	$27 + 3$	$27 - 9$	<input type="text"/>	$22 - 1$	$3 + 23$	<input type="text"/>	$4 + 20$
$25 - 5$	<input type="text"/>	$29 - 9$	$23 - 2$	<input type="text"/>	$30 - 3$	$19 + 2$	<input type="text"/>	$22 + 2$

### 2.

Zväčši číslo o 6



Zmenši číslo o 5



### 3. Rieš slovnú úlohu

Na ihrisku sa hralo 9 chlapcov a 7 dievčat.

Koľko detí sa hralo na ihrisku spolu?

chlapcov.....

dievčat.....

Spolu ..... ? \_\_\_\_\_

Na ihrisku sa hralo spolu  chlapcov a dievčat.

1. Čísla spoj čiarou od najmenšieho po najväčšie

.6  
.1 .5  
.2  
.5  
.3 .4

2. Narysuj dve priamky. Priamku  $p$ , priamku  $m$

3. Vyznač na priamke  $p$  body K, L, M, N, ktoré jej patria

---

p

4. Vyznač na priamke  $s$  body A, B, C, ktoré jej nepatria

---

s