

Úlohy pre žiakov II. ročníka v týždni od 15. 4. - 17. 4. 2020 z predmetu  
Matematika

Téma: Precvičovanie učiva. Sčítanie a odčítanie v obore do 20 s prechodom cez desiatku.

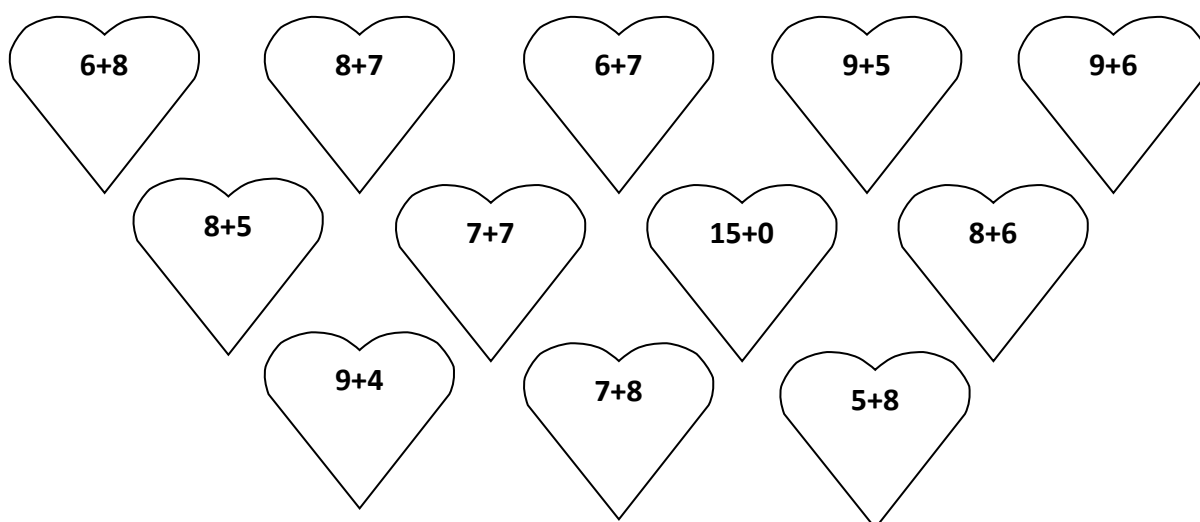
Milí žiaci, posielam Vám zadanie úloh na tento týždeň.

1. Vyfarbi srdiečka podľa výsledkov:

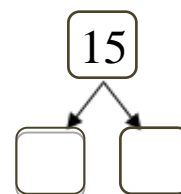
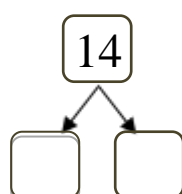
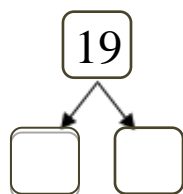
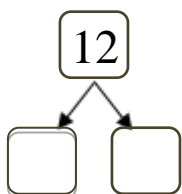
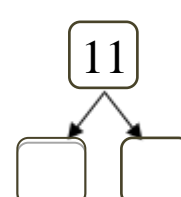
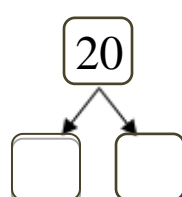
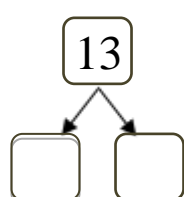
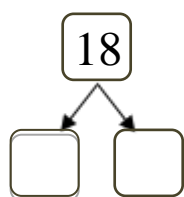
Výsledok 13- žltá farba

Výsledok 14- červená farba


Výsledok 15- zelená farba



2. Rozdeľ čísla na jednotky a desiatky:



### 1. Vypočítaj:



### 2. Vypočítaj:

$8 + 12 =$

$15 - 4 =$

$11 - 6 =$

$9 + 4 =$

$7 + 6 =$

$12 - 7 =$

$13 - 7 =$

$3 + 8 =$

$9 + 3 =$

$14 - 5 =$

$8 + 7 =$

$12 - 3 =$

$5 + 8 =$

$16 - 8 =$

$7 + 5 =$

$15 - 7 =$

### 3. Rieš slovnú úlohu:

Červená čiapočka mala v košíku 13 koláčikov. Cestou zjedla 4.

Koľko koláčikov zostalo babičke ?


Mala .....

Zjedla.....

Zostalo..... ? \_\_\_\_\_

Babičke zostalo  koláčikov.

1. Vyfarbi geometrické útvary príslušnou farbou a zapíš ich počet ☺:



2. Vyznač farebne. **Priama čiara – červená farba,**

**krivá čiara – zelená farba.**

