

Úlohy pre žiakov II. ročníka v týždni od 1.4. - 3.4. 2020 z predmetu
Matematika

Téma: Opakovanie učiva. Určovanie počtu objektov a porovnávanie do 20.

Milí žiaci, posielam Vám úlohy na tento týždeň.

1. Doplň číselný rad ☺ :

		10	11	12			15			18	
--	--	----	----	----	--	--	----	--	--	----	--

20	19	18				14			11	10	
----	----	----	--	--	--	----	--	--	----	----	--

2. Porovnaj čísla ☺ : < > =


16 17 10 11 16 14 0 6

20 9 12 13 18 20 10 7









15 15 19 16 1 13 14 17

19 13 7 17 14 10 19 19

3. Spájaj body od najmenšieho čísla po najväčšie číslo :



1. Precvič si porovnávanie s obrázkami < > =



2. Usporiadaj čísla od najmenšieho po najväčšie:

13, 6, 19, 0, 10

11, 2, 17, 8, 12

1, 9, 6, 20, 15

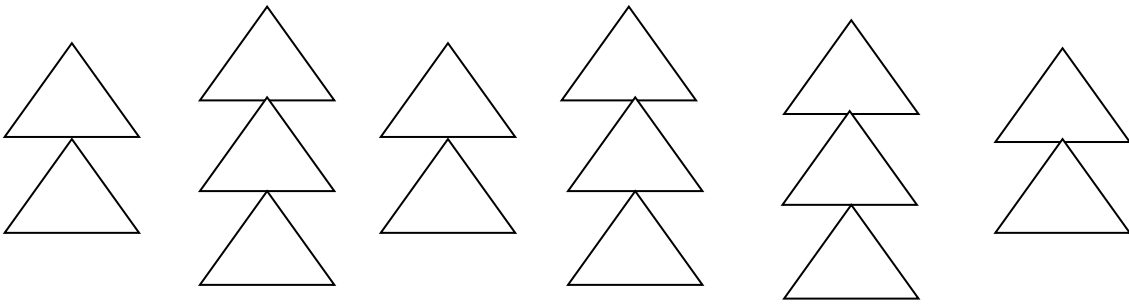
3. Usporiadaj čísla od najväčšieho po najmenšie:


5, 14, 7, 18, 3

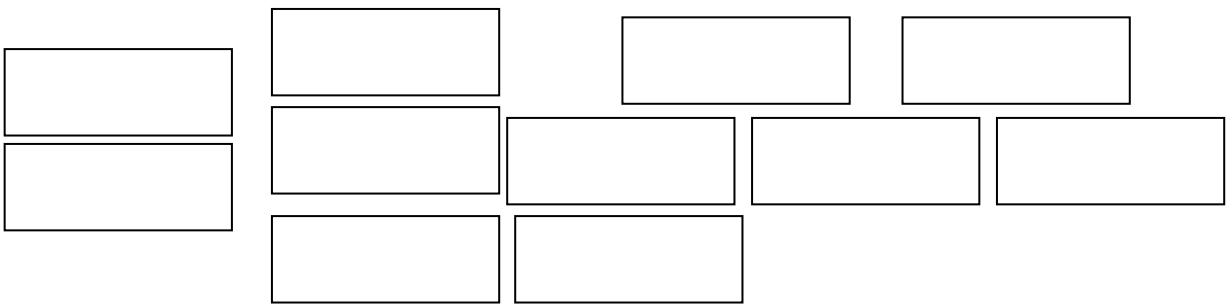
13, 8, 6, 12, 0

3, 12, 4, 16, 11

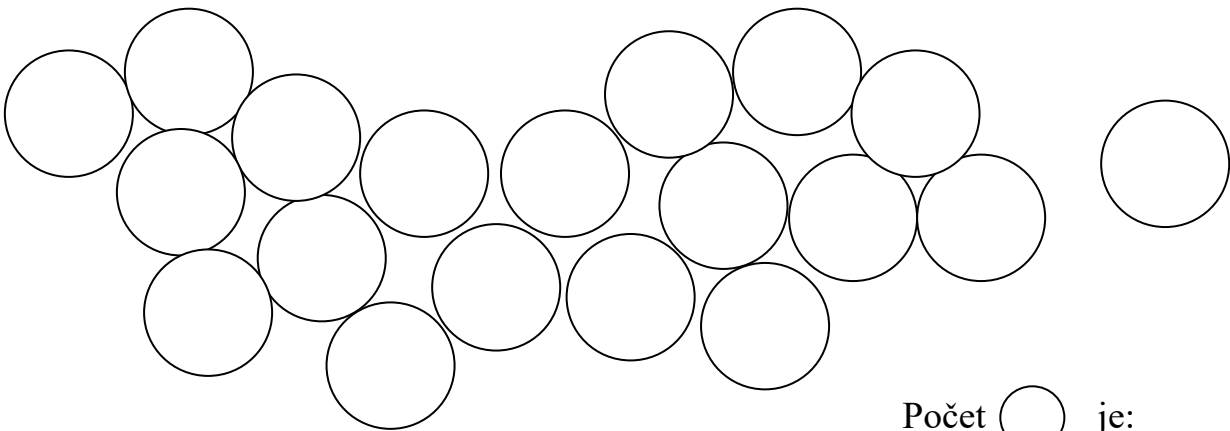
1. Pomenuj, spočítaj geometrické tvary a napíš ich počet:




Počet  je: _____



Počet  je: _____



Počet  je: _____



Počet  je: _____