

Úlohy pre žiakov II.B triedy v týždni od 8. 6. - 12. 6. 2020

z predmetu Matematika

Téma: Sčítanie a odčítanie prirodzených čísel v obore do 100.

Milí žiaci, posielam Vám úlohy na tento týždeň.

1. Doplň a dopíš všetky čísla medzi:

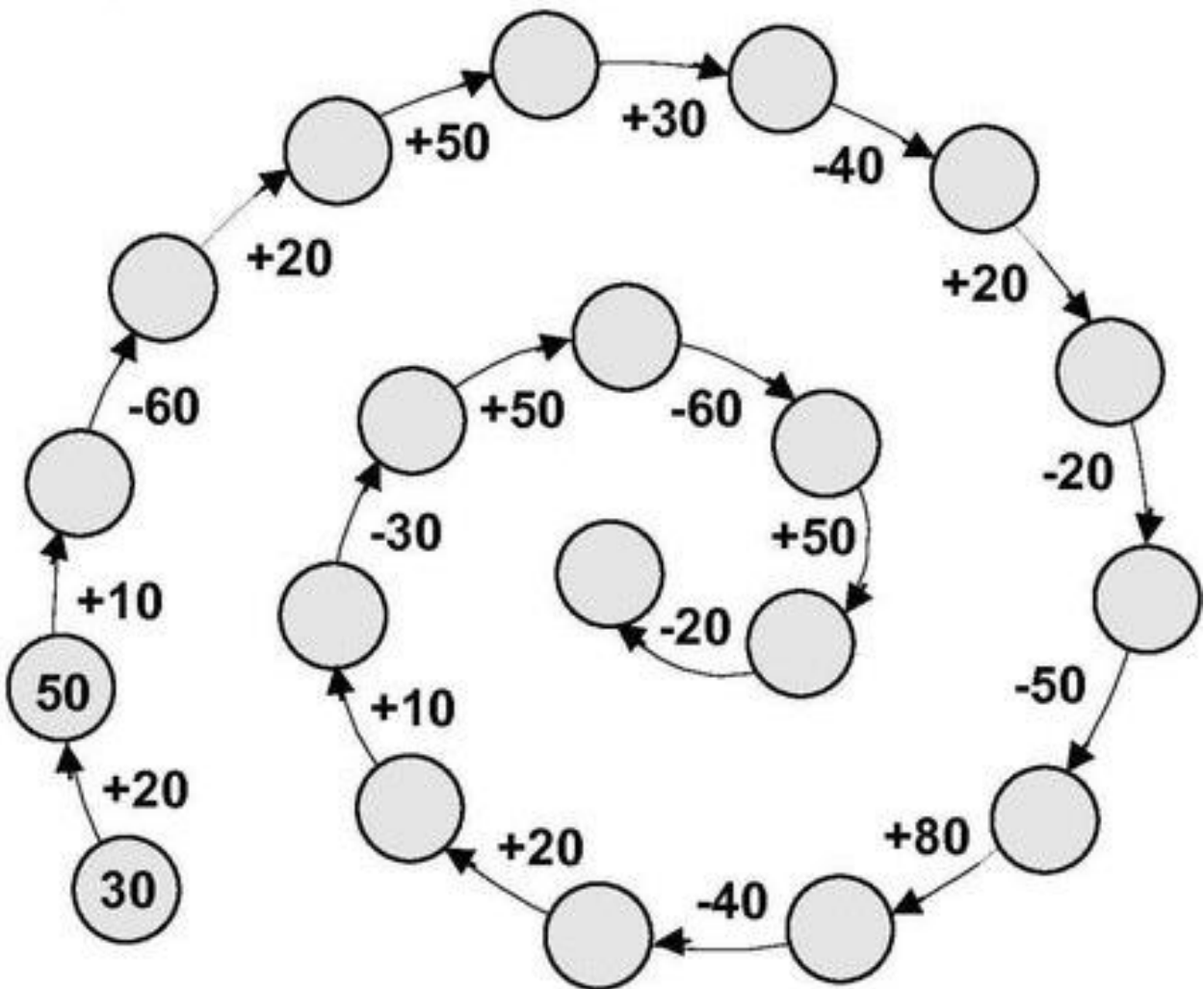
- 48 a 56.....
- 65 a 78.....
- 52 a 61
- 17 a 29
- 90 a 100

2. Napíš číslo hneď pred a hneď za danými číslami:

	50				34	
	89				76	
	32				99	

	49				61	
	98				39	
	25				72	

1. Vypočítaj čísla v kolotoči:



2. Vyrieš slovnú úlohu:

V jazierku pláva 36 kačiek. Po chvíľke 10 kačiek odletelo.

Koľko kačiek zostalo v jazierku?

V jazierku pláva.....

Odletelo.....

Zostalo..... ? _____

V jazierku zostalo kačiek.

1. Znázorni graficky

24  _____

65 _____

57 _____

30 _____

80 _____

57 _____

44 _____

26 _____

9 _____

72 _____

2. Sčítaj:

$38 + 2 + 1 =$

$56 + 20 + 1 =$

$71 + 2 + 4 =$

$81 + 4 + 3 =$

$40 + 10 + 1 =$

$2 + 10 + 80 =$

$63 + 0 + 5 =$

$24 + 5 + 1 =$

$37 + 2 + 1 =$

3. Odčítaj:

$18 - 2 - 5 =$

$27 - 4 - 1 =$

$40 - 5 - 4 =$

$96 - 1 - 3 =$

$60 - 20 - 1 =$

$70 - 50 - 2 =$

$89 - 3 - 4 =$

$38 - 5 - 30 =$

$56 - 30 - 2 =$

4. Vypočítaj tabuľku:


	20	35	68	80	60	70	45
+ 6							
- 6							

1. Do okienok nakresli:


dva trojuholníky



tri štvorce



štyri kruhy




2. Pracuj podľa pokynov:

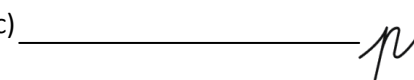
- do obdĺžnika narysuj priamku m
- vyznač bod C , ktorý leží na priamke m
- vyznač body A, B , ktoré neležia na priamke m



3. Zopakuj si a správne pomenuj (úsečka, bod, priamka):

a) 
C D

b) 
P

c) 

a) _____

b) _____

c) _____