

Matematika

Týždeň: 08.06. 2020 – 12.06.2020

Téma: Prirodzené čísla 1 až 20. Číselné predstavy.

Pondelok 08.06.2020

1. Pozri si pozorne rámček s číslami.

Obtiahni číslice rovnakou farbou, aká je v rámčeku.

1 2 3 4 5 6 7 8 9 10

1 6 4 3 2 1 7 1 0 8 4 2 1

5 3 4 7 9 8 4 5 6 4 1 9 2

4 8 7 5 1 2 4 6 9 3 5 2 7

3 1 4 7 2 5 6 8 10 1 4 7 1

2. Vyrieš podľa zadania.

Ako štartuje
ježibaba
metlu?

$10 + 5 = 15 \text{ Č}$

$6 + 10 =$

Vypočítaj.

$12 + 2 =$

Písmená
priradi
k výsledkom.

$4 + 13 =$

$13 + 0 =$

$13 - 10 =$

$11 + 3 =$

$2 + 16 =$

$10 - 6 =$

$15 - 10 =$

$13 + 3 =$

$4 + 10 =$

$12 + 5 =$

$2 + 11 =$

$18 - 10 =$

$9 - 2 =$

$16 + 2 =$

$6 - 0 =$



18	E	3	P
17	Y	4	D
16	Á	5	M
15	Č	6	Ť
14	R	7	L
13	V	8	Z

3. Pozorne si pozri obrázok. Koľko dáždnikov vidíš?
Všetky ich ukáž. Napíš počet.




Utorok 09.06.2020

4. Na obrázku je nakreslená izba, v ktorej je veľa vecí. Predstav si, že chodíš po izbe a všetkého sa dotýkaš. Keď si to predstavíš, budeš si lepšie pamätať, čo sa v izbe nachádza a kde to je. A teraz obrázok zakry.




5. Povedz, čo sa na obrázku zmenilo. Odkry predchádzajúcu stránku a skontroluj, či si si zmeny správne zapamätal(a).



Streda 10.06.2020

6. Porovnaj predmety.

Povedz, v čom sú rovnaké a v čom odlišné.



7. Dopln rozklady.

Diagram showing six Christmas trees, each divided into two columns. The total number for each tree is written at the top, and numbers are placed in the branches. Some numbers are missing, indicated by empty boxes.

10		8		9	
9	1		4		6
	5	6		2	
8			7		8
	3	5		4	

5		7		6	
3		2		1	
	1		6	2	
2		5			3

8. Vypočítaj.

Prirad' písmená k výsledkom.

2	+	3	=		S
8	-	6	=		B
5	+	4	=		K
1	-	0	=		M
6	+	4	=		V
10	-	7	=		C
3	+	3	=		R
9	-	5	=		E
2	+	6	=		O
0	-	0	=		I
4	+	3	=		A





5	1	6	4	9

2	8	6	8	10	0	3	7

Štvrtok 11.06.2020

9. Pozri si veľký obrázok a očíslované výrezy pod ním.

Napiš správne číslce do správnych dielikov veľkého obrázka.



10. Pozri si pozorne obrázok.
Spoj čiarou rovnaké predmety.



11. Dokresli do prázdnych tabuliek znaky a rozmiestni ch tak, ako sú rozmiestnené v tabuľkách vľavo.

P			P
		P	
P			P

		P	
P			
	P		
			P
P			

Piatok 12.06.2020

12. Napravo spočítaj zvieratká z každého druhu a naľavo začierni toľko bodiek, koľko zvieratiek si našiel.

