

Predmet: Matematika

Trieda : IV.B

Dátum : 20.4 - 24.4.2020

Stretávame sa znovu. Aj tentokrát som pre Vás pripravila niekoľko matematických úloh od pondelka až do piatku.

Do svojich zošitov si najprv napíšte dátum. Keď príklady vypočítate, napíšte mi na môj mail, ako sa Vám darilo, ktoré príklady ste zvládli, ktoré nie a spoločne sa na to pozrieme. Kto vie lepšie pracovať s telefónom, vypočítané príklady môže ním odfoťiť a poslať na môj mail- zssnp13.liviaevengrosova@gmail.com

Teším sa na Vaše maily, napíšte mi aj, ako sa Vám darí.

Nech sa Vám darí.

PONDELOK - 20. 4. 2020

1. Prirad' správne výsledky k príkladom

$6 \cdot 6 =$

$9 \cdot 7 =$

$81 : 9 =$

$56 : 7 =$

$7 \cdot 4 =$

$10 \cdot 8 =$

$72 : 9 =$

$100 : 1 =$

$8 \cdot 4 =$

$7 \cdot 7 =$

$64 : 8 =$

$36 : 9 =$

$9 \cdot 9 =$

$8 \cdot 8 =$

$49 : 7 =$

$48 : 8 =$

6

7

64

81

32

49

8

4

100

8

80

28

36

8

9










63

2. Dopln' stratené číslo do príkladu. Čierne príklady sú na sčítanie a červené na odčítanie

$$\begin{array}{l} \square + 50 = 100 \\ 350 + \square = 700 \\ 650 + 1238 = \square \\ 1300 + \square = 2001 \\ 8720 - 1239 = \square \\ 450 - \square = 200 \\ 6754 - \square = 3700 \\ \square - 500 = 50 \end{array}$$

UTOROK - 21. 4. 2020

1. Vypočítaj a napíš k tomu aj správny príklad

- Polovica zo 14 je 
- Polovica z 18 je 
- Tretina z 18 je 
- Tretina z 15 je 
- Štvrtina z 20 je 
- Štvrtina z 28 je 
- Pätina z 20 je 
- Pätina z 30 je 
- Polovica z 50 je 

3. Premeň jednotky

$$1 \text{ m} = 10 \text{ dm}$$

$$1 \text{ dm} = 10 \text{ cm}$$

$$1 \text{ cm} = 10 \text{ mm}$$

$$1 \text{ m} = 100 \text{ cm}$$

$$1 \text{ dm} = 100 \text{ mm}$$

$$1 \text{ m} = 1000 \text{ mm}$$

$$5 \text{ cm} = \underline{\hspace{1cm}} \text{ mm}$$

$$350 \text{ cm} = \underline{\hspace{1cm}} \text{ m}$$

$$10 \text{ cm} = \underline{\hspace{1cm}} \text{ mm}$$

$$55 \text{ cm} = \underline{\hspace{1cm}} \text{ dm}$$

$$7 \text{ dm} = \underline{\hspace{1cm}} \text{ cm}$$

$$250 \text{ cm} = \underline{\hspace{1cm}} \text{ dm}$$

$$80 \text{ cm} = \underline{\hspace{1cm}} \text{ mm}$$

$$83 \text{ mm} = \underline{\hspace{1cm}} \text{ cm}$$

$$240 \text{ cm} = \underline{\hspace{1cm}} \text{ dm}$$

$$70 \text{ dm} = \underline{\hspace{1cm}} \text{ m}$$

$$6 \text{ m} = \underline{\hspace{1cm}} \text{ cm}$$

$$6 \text{ m} = \underline{\hspace{1cm}} \text{ cm}$$

STREDA - 22. 4. 2020

1. Vypočítaj príklady so zátvorkami. Pamätaj, že najprv musíš vypočítať tie príklady, ktoré sú v zátvorkách

$$(541 + 23) - 100 = \underline{\hspace{2cm}}$$

$$(965 + 747) - 40 = \underline{\hspace{2cm}}$$

$$4900 - (321 + 27) = \underline{\hspace{2cm}}$$

$$999 - (88 + 295) = \underline{\hspace{2cm}}$$

$$(1084 + 14) - 610 = \underline{\hspace{2cm}}$$

$$(796 + 438) - 126 = \underline{\hspace{2cm}}$$

$$5014 + (4112 + 43) = \underline{\hspace{2cm}}$$

$$1218 - (202 + 189) = \underline{\hspace{2cm}}$$

$$8000 - (312 + 318) = \underline{\hspace{2cm}}$$

$$(3082 + 593) - 175 = \underline{\hspace{2cm}}$$

2. Pozorne si prečítaj slovnú úlohu, urob zápis, výpočet a napíš odpoveď

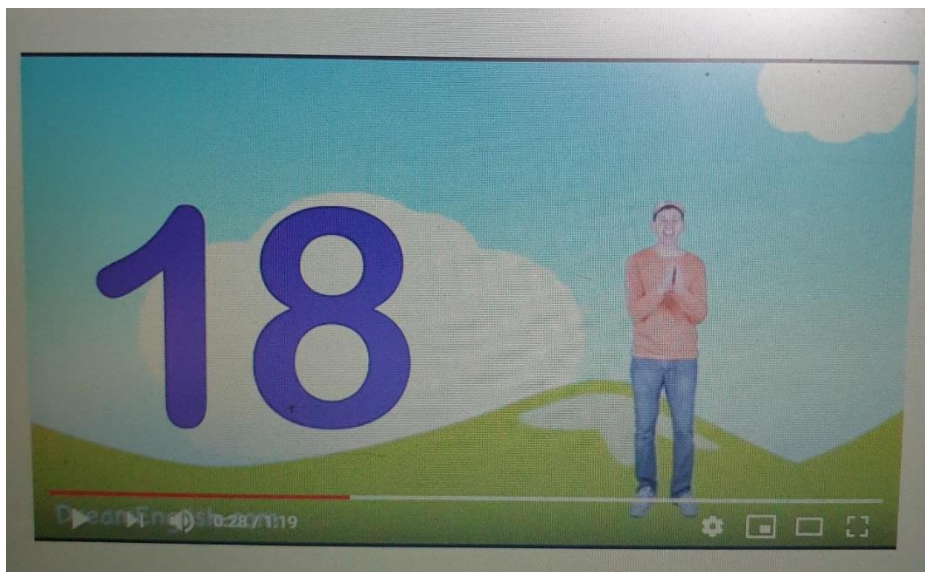
Júlia nazbierala 28 žltých kvetov. Červených nazbierala 4x menej. Modrých nazbierala 3x viac ako červených. Koľko červených a modrých kvetov nazbierala Júlia ? Koľko kvetov spolu nazbierala Júlia ?

Odpoveď :






3. Klikni na červený odkaz

<https://www.youtube.com/watch?v=0VLxWIHRD4E> Zaspievaj si anglickú pieseň o číslach a zatancuj si podľa návodu. Veľa zábavy !









/1/



1. Napíš do okienok násobky čísel

2	3	4	5	6
				

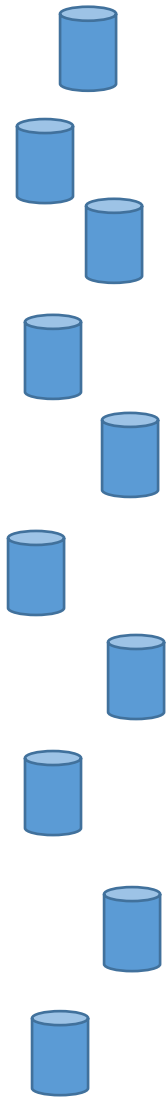
2. Odhadom urč, ktorá čiara je kratšia a ktorá je dlhšia. Použi $<$ $>$ $=$

	<input type="text"/>	
	<input type="text"/>	
	<input type="text"/>	
	<input type="text"/>	

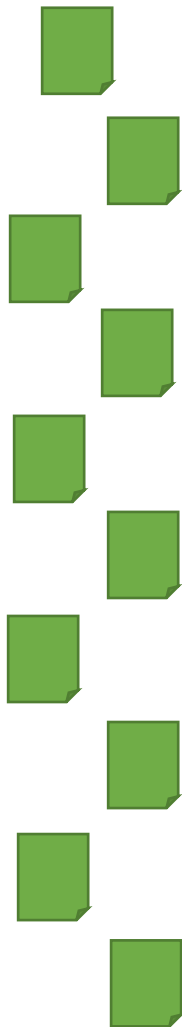
PIATOK - 24. 4. 2020

1. Napíš do okienok násobky čísel a potom vyrátaj príklady

7




8



9



10



7 . 4 =

8 . 8 =

9 . 0 =

10 . 10 =

6 . 9 =

72 : 9 =

81 : 9 =

64 : 8 =

56 : 7 =

48 : 8 =

