

Predmet : Matematika

Trieda : IV.B

Dátum : 1.6 - 5.6.2020

---

Ahojte štvrtáci !

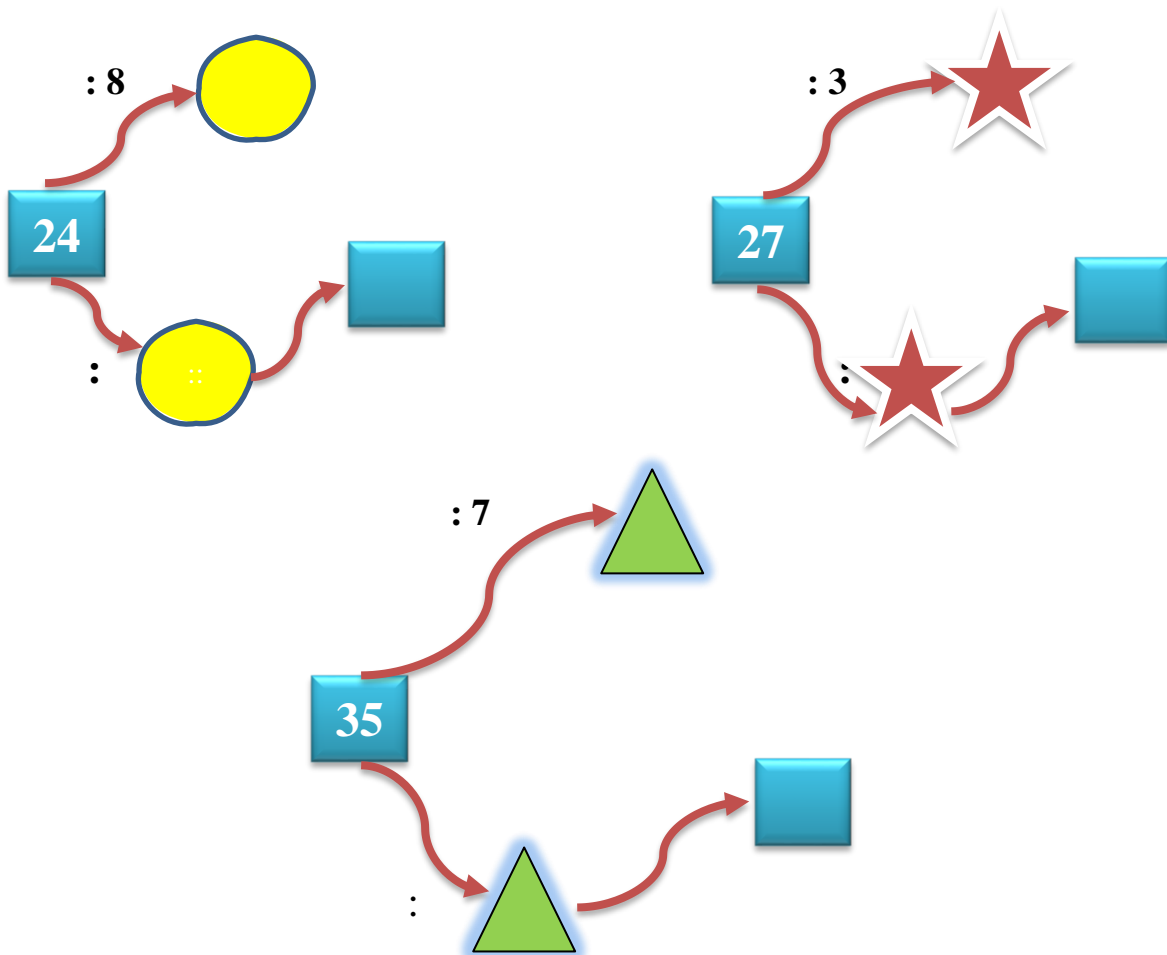
Pre tento týždeň som vám pripravila nové úlohy z matematiky. Tak sa pustite do práce :) nech sa vám darí !

Do svojich zošitov si najprv napíšte dátum, kto vie, tak sám a kto zabudol, tak si opíše z pracovného listu. Príklady vypočítate, napíšte mi na môj mail, ako sa Vám darilo, ktoré príklady ste zvládli, ktoré nie a spoločne sa na to pozrieme. Kto vie lepšie pracovať s telefónom, môže si ním svoju vypracovanú úlohu od- fotiť a poslať na môj mail- [zssnp13.liviacvengrosova@gmail.com](mailto:zssnp13.liviacvengrosova@gmail.com)

Teším sa na Vaše maily, napíšte mi aj, ako sa darí Vám, aj Vaším rodinám.

### PONDELOK - 1. 6. 2020

#### 1. Pod rovnakými obrázkami sú rovnaké čísla. Vyplň šipkové príklady







## 2. Premeň na milimetre

$4 \text{ cm} = \text{[orange box]} \text{ mm}$

$7 \text{ cm} = \text{[orange box]} \text{ mm}$

$12 \text{ cm} = \text{[orange box]} \text{ mm}$

$27 \text{ cm} = \text{[orange box]} \text{ mm}$

## Premeň na centimetre

$30 \text{ mm} = \text{[purple box]} \text{ cm}$

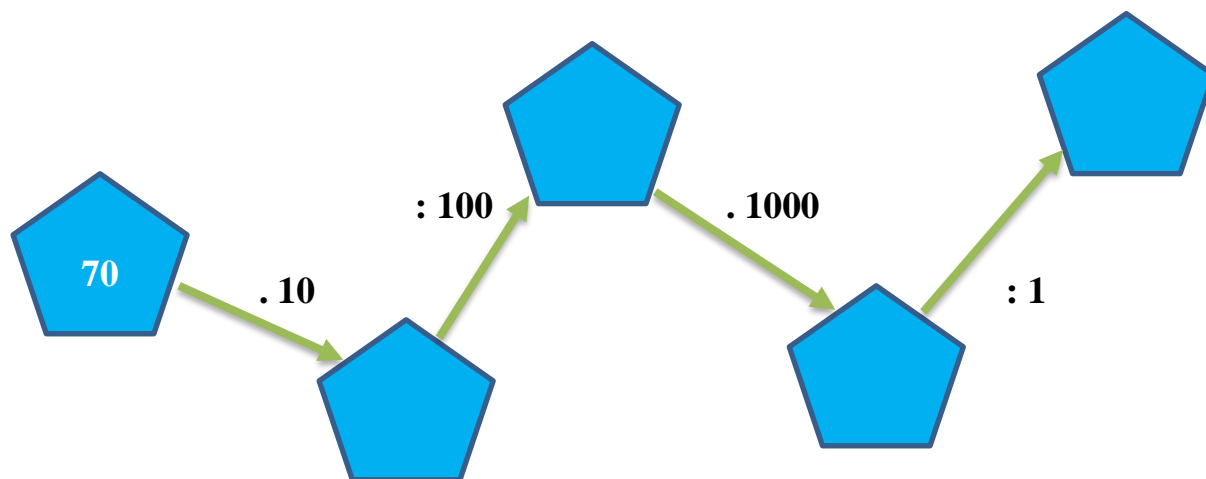
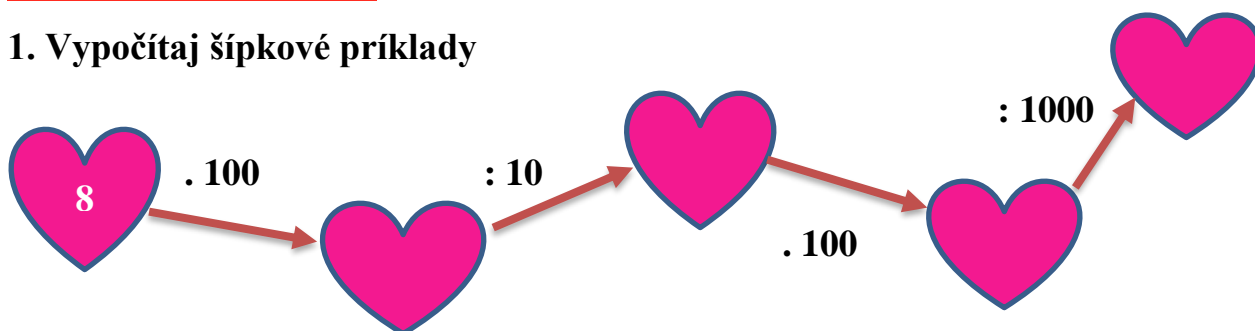
$80 \text{ mm} = \text{[purple box]} \text{ cm}$

$140 \text{ mm} = \text{[purple box]} \text{ cm}$

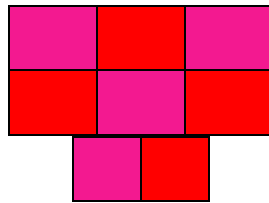

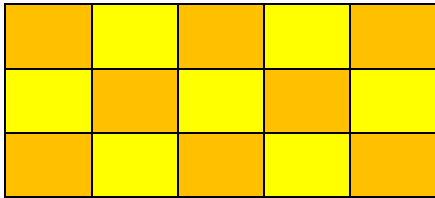
$420 \text{ mm} = \text{[purple box]} \text{ cm}$

**ŠTVRTOK – 4. 6. 2020**

### 1. Vypočítaj šipkové príklady

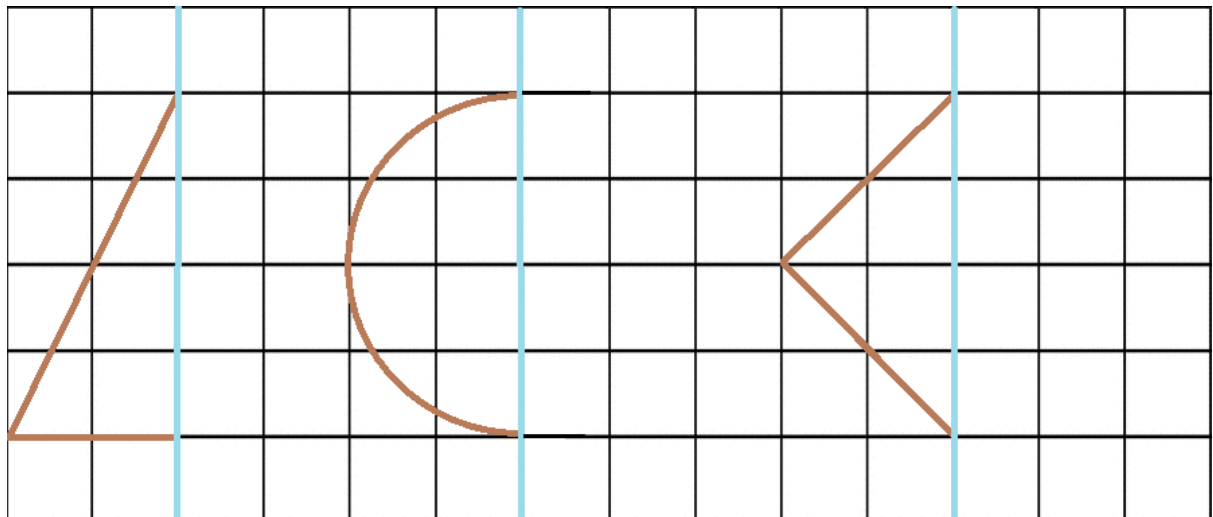


2. Vyfarbi na zeleno polovicu každej záhradky. Prekresli si štvorčky do zošita a potom pracuj podľa zadania



**PIATOK - 5. 6. 2020**


1. Dokresli polovice k červeným objektom na linajky napíš, čo vzniklo /1/



Vznikol:

\_\_\_\_\_

2. Spočítaj, koľko je na obrázku štvorcov, obdĺžnikov, trojuholníkov a kruhov



Zdroje-

1. Kreslenie v štvorcovej sieti- [https://www.zborovna.sk/kniznica.php?action=show\\_version&id=319102](https://www.zborovna.sk/kniznica.php?action=show_version&id=319102)