

# Matematika

Mgr. Katarína Baráthová

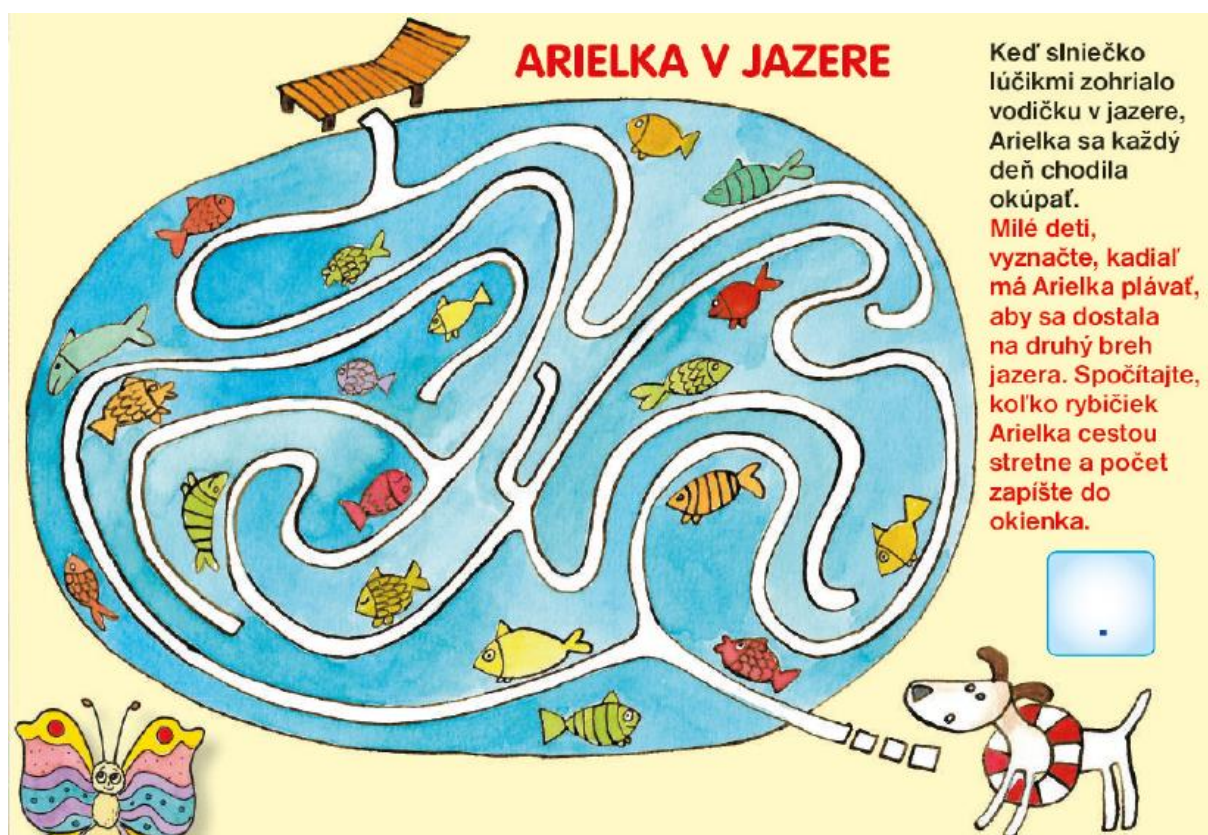
**Kontakt: zssnp13.katarinabarathova@gmail.com**

Po víkende ste hádam oddýchnutí a teraz hor sa do práce. Rozhýbte svoje hlavičky aj pri počítaní príkladov a po vypracovaní poprosím rodičov o zaslanie na vyššie uvedenú adresu. V prípade nejasností ma kľudne prostredníctvom mailu kontaktujte.

**Téma:** Opakovanie prirodzené čísla 0- 20

1. Najprv si vyskúšajte, či si pamätáte na číselný rad do 20. Pomaly si najprv skús spočítať prsty na rukách a na nohách. Koľko si ich napočítal? Napíš \_\_\_\_\_

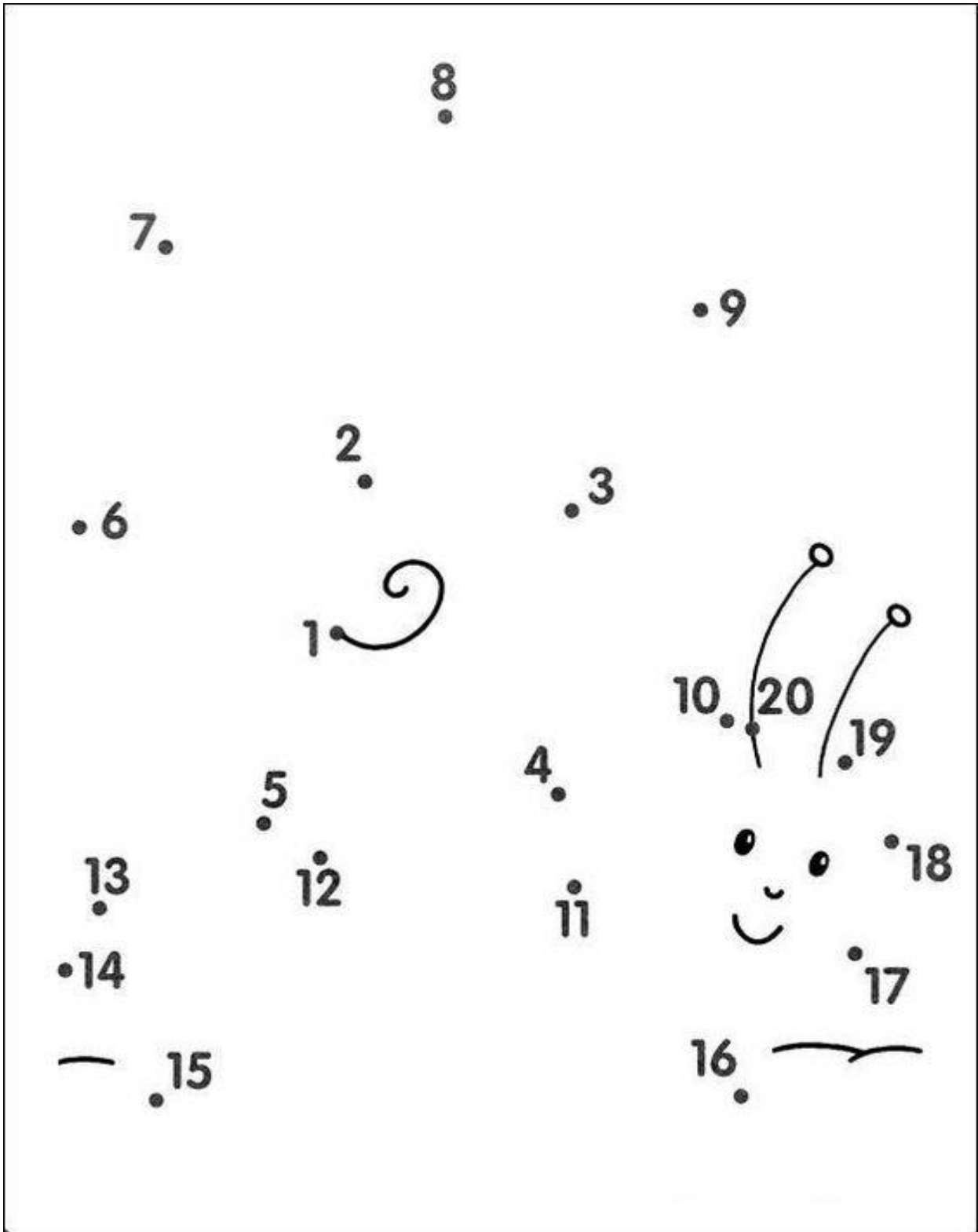
2. Spočítaj všetky rybky a zapíš počet.



**ARIELKA V JAZERE**

Keď slniečko lúčikmi zohrialo vodičku v jazere, Arielka sa každý deň chodila okúpať. Milé deti, vyznačte, kadiaľ má Arielka plávať, aby sa dostala na druhý breh jazera. Spočítajte, koľko rybičiek Arielka cestou stretne a počet zapíšte do okienka.

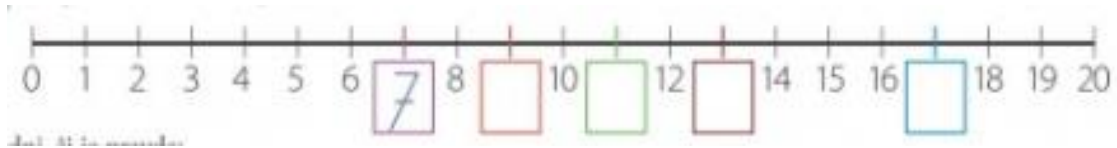
3. Ak si to zvládol správne over si to na obrázku nižšie, či to vieš aj písomne. Pospájaj čísla od 1 do 20. Ak si to spravil správne za odmenu sa ti ukáže, čo sa skrýva na obrázku. Obrázok vyfarbi.



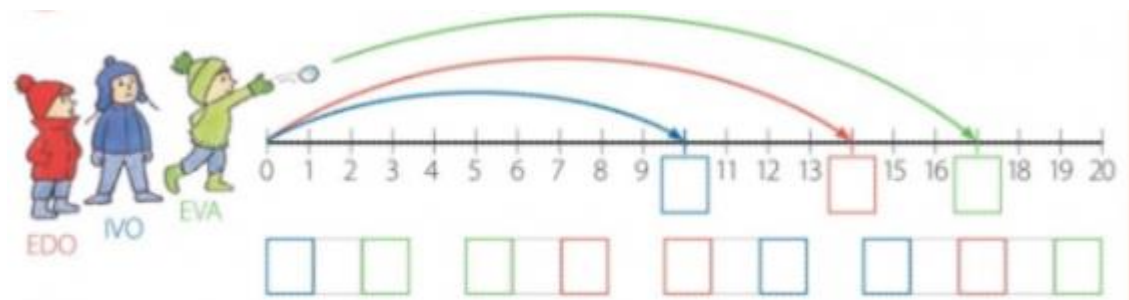
4. Dopln čísla v číselnom rade.



5. Dopln čísla do číselnej osi.



6. Dopln čísla na číselnej osi. Kto hodil ďalej? Zapíš a porovnaj. Skontroluj na číselnej osi.



7. Usporiadaj čísla od najmenšieho po najväčšie.

18	11	14	20	16	
19	6	15	8	0	
13	17	7	12	2	
7	14	18	11	20	





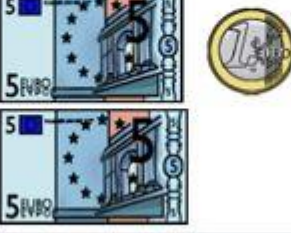







8. Porovnaj. Spočítaj koľko jablčok je na strome? Koľko jablčok je v košíku? Kde je viac jablčok?



--	--	--



9. Zakružkuj správny počet

 <table border="1" data-bbox="320 533 635 607"> <tr> <td>5 €</td> <td>7 €</td> <td>9 €</td> </tr> </table>	5 €	7 €	9 €	 <table border="1" data-bbox="655 533 970 607"> <tr> <td>5 €</td> <td>7 €</td> <td>9 €</td> </tr> </table>	5 €	7 €	9 €	 <table border="1" data-bbox="991 533 1305 607"> <tr> <td>5 €</td> <td>7 €</td> <td>9 €</td> </tr> </table>	5 €	7 €	9 €
5 €	7 €	9 €									
5 €	7 €	9 €									
5 €	7 €	9 €									
 <table border="1" data-bbox="320 882 635 956"> <tr> <td>11 €</td> <td>12 €</td> <td>13 €</td> </tr> </table>	11 €	12 €	13 €	 <table border="1" data-bbox="655 882 970 956"> <tr> <td>11 €</td> <td>12 €</td> <td>13 €</td> </tr> </table>	11 €	12 €	13 €	 <table border="1" data-bbox="991 882 1305 956"> <tr> <td>11 €</td> <td>12 €</td> <td>13 €</td> </tr> </table>	11 €	12 €	13 €
11 €	12 €	13 €									
11 €	12 €	13 €									
11 €	12 €	13 €									
 <table border="1" data-bbox="320 1352 635 1426"> <tr> <td>14 €</td> <td>15 €</td> <td>16 €</td> </tr> </table>	14 €	15 €	16 €	 <table border="1" data-bbox="655 1352 970 1426"> <tr> <td>14 €</td> <td>15 €</td> <td>16 €</td> </tr> </table>	14 €	15 €	16 €	 <table border="1" data-bbox="991 1352 1305 1426"> <tr> <td>14 €</td> <td>15 €</td> <td>16 €</td> </tr> </table>	14 €	15 €	16 €
14 €	15 €	16 €									
14 €	15 €	16 €									
14 €	15 €	16 €									
 <table border="1" data-bbox="320 1702 635 1776"> <tr> <td>14 €</td> <td>15 €</td> <td>16 €</td> </tr> </table>	14 €	15 €	16 €	 <table border="1" data-bbox="655 1702 970 1776"> <tr> <td>14 €</td> <td>15 €</td> <td>16 €</td> </tr> </table>	14 €	15 €	16 €	 <table border="1" data-bbox="991 1702 1305 1776"> <tr> <td>14 €</td> <td>15 €</td> <td>16 €</td> </tr> </table>	14 €	15 €	16 €
14 €	15 €	16 €									
14 €	15 €	16 €									
14 €	15 €	16 €									

10. Zapiš počet a porovnaj a doplň < > =




--	--	--



--	--	--



--	--	--



--	--	--

11. Jurko má 15 cukríkov. Dokresli viac ako 15 cukríkov. Zapiš počet.



15	<	
----	---	--