

Matematika

Mgr. Katarína Baráthová

Kontakt: zssnp13.katarinabarathova@gmail.com

Téma: Prírodné čísla od 0 do 20

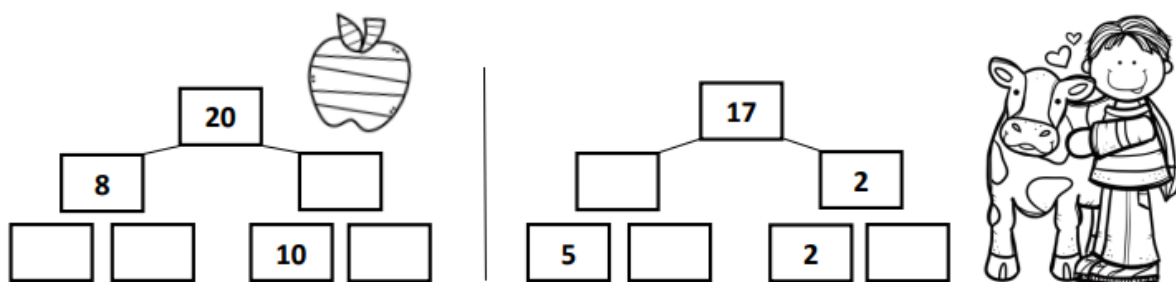
1. Zopakujme si čísla v číselnom rade. Čítaj nahlas a ukazuj na prstoch. Nezabudni, ako sme si pri desiatke pomohli nohami a prekríž ich.

| | | | | | | | | | | |
|----|----|----|----|----|----|----|----|----|----|----|
| 0 | 1 | 2 | 3 | 4 | 5 | 6 | 7 | 8 | 9 | 10 |
| 10 | 11 | 12 | 13 | 14 | 15 | 16 | 17 | 18 | 19 | 20 |

2. Usporiadaj čísla od najmenšieho po najväčšie.



3. Doplň rozklady



4. Zväčši každé číslo o 4.



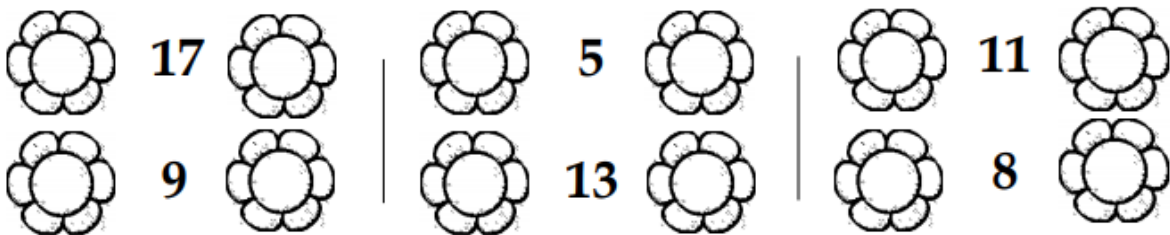
5. Vyrieš príklady a vyfarbi okienka s výsledkom 15. pomôž nájsť prasiatku cestu ku kamarátke.



| | | | | | |
|------------|------------|------------|------------|------------|------------|
| $5 + 4 =$ | $19 - 3 =$ | $12 + 2 =$ | $18 - 4 =$ | $15 - 3 =$ | $10 + 5 =$ |
| $18 + 1 =$ | $3 + 4 =$ | $20 - 7 =$ | $15 + 0 =$ | $9 - 5 =$ | $19 - 4 =$ |
| $12 - 1 =$ | $1 + 14 =$ | $17 - 2 =$ | $14 + 5 =$ | $12 + 3 =$ | $17 - 3 =$ |
| $8 + 2 =$ | $18 - 3 =$ | $11 + 3 =$ | $6 - 2 =$ | $20 - 4 =$ | $0 + 9 =$ |
| $4 + 11 =$ | $20 - 5 =$ | $19 - 2 =$ | $10 + 6 =$ | $16 - 5 =$ | $12 + 6 =$ |



6. Dopln čísla hneď pred a hneď za číslom uvedeným v strede.



7. Dopln chýbajúce čísla v číselnom rade.

| | | | | | | | | | |
|--|--|-----------|--|----------|--|--|--|-----------|-----------|
| | | | | 5 | | | | | 10 |
| | | 13 | | | | | | 19 | |

8. Dopln $<$ $>$ $=$

| | | | | | |
|-----------|-----------|-----------|-----------|-----------|-----------|
| 6 | 16 | 3 | 13 | 4 | 14 |
| 12 | 4 | 15 | 7 | 8 | 5 |
| 20 | 20 | 19 | 18 | 0 | 10 |
| 0 | 7 | 14 | 15 | 20 | 12 |

9. Zahraj sa na pani učiteľku a oprav písomky.

Gravoval/a:

VYMYSLI MENÁ.

Meno: _____ ZNÁMKA

$7 + 2 = 8$ _____
 $4 + 3 = 7$ _____
 $2 + 5 = 9$ _____ $13 + 2 = 15$ _____
 $9 + 1 = 10$ _____ $16 + 2 = 19$ _____
 $4 + 4 = 6$ _____ $18 + 1 = 20$ _____
 $5 + 3 = 8$ _____ $12 + 4 = 16$ _____
 $6 + 2 = 7$ _____ $17 + 1 = 15$ _____
 $10 + 0 = 10$ _____ $15 + 1 = 16$ _____
 $16 + 3 = 9$ _____
 $15 + 4 = 18$ _____
 $10 + 2 = 12$ _____


ŽIACI NESPRÁVNE VYPOČÍTALI NIEKTORÉ PRÍKLADY. OPRAV ICH. DO KRUHU NAPIŠ ZNÁMKU.

Meno: _____ ZNÁMKA


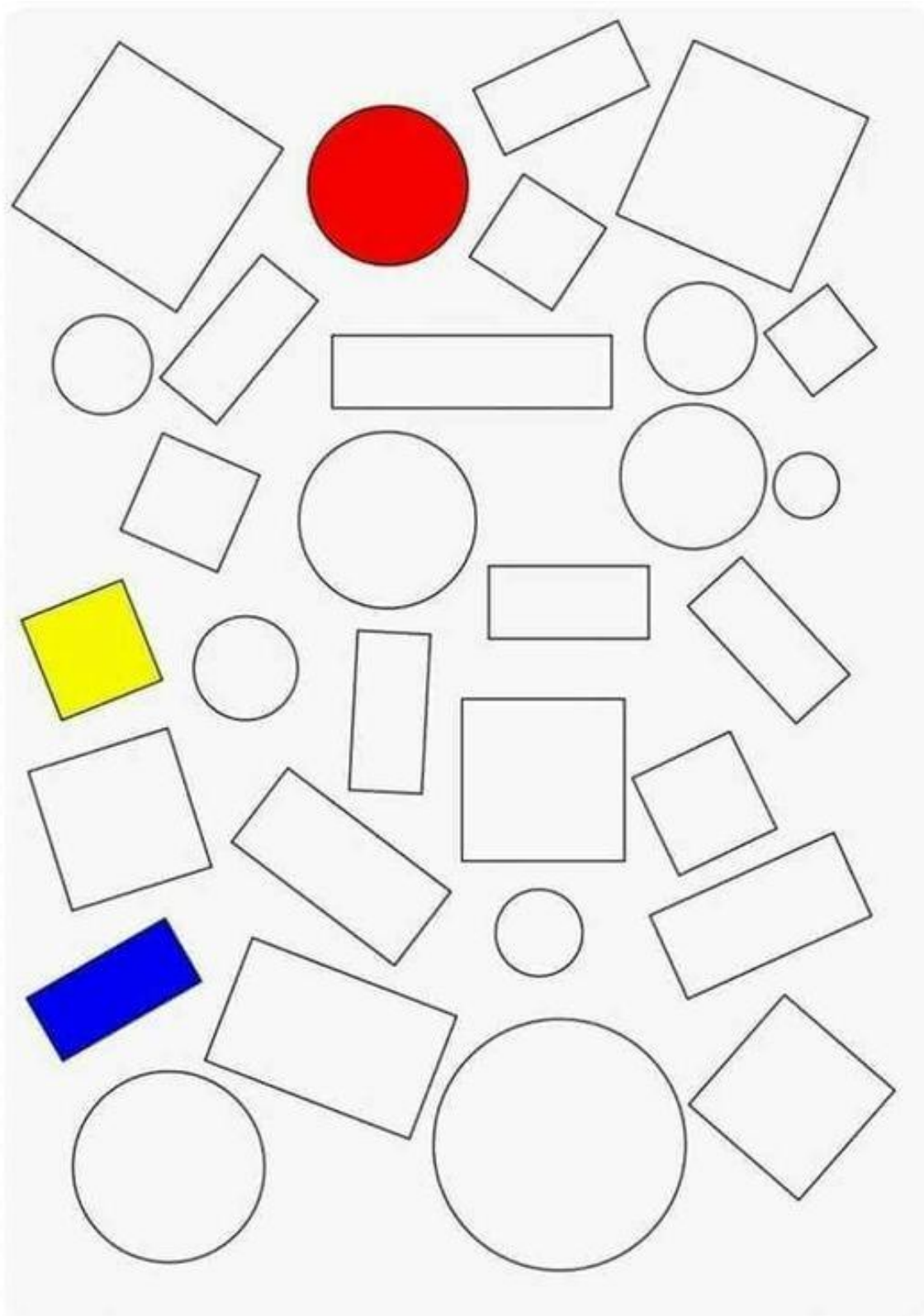
$9 - 2 = 7$ _____
 $8 - 3 = 9$ _____
 $6 - 5 = 1$ _____
 $8 - 4 = 4$ _____ $18 - 3 = 15$ _____
 $9 - 7 = 3$ _____ $19 - 3 = 15$ _____
 $5 - 1 = 6$ _____ $16 - 2 = 14$ _____
 $7 - 5 = 2$ _____ $18 - 5 = 14$ _____
 $20 - 7 = 13$ _____
 $19 - 4 = 16$ _____
 $17 - 3 = 12$ _____
 $12 - 1 = 10$ _____
 $17 - 16 = 11$ _____

Meno: _____ ZNÁMKA

$7 + 3 + 4 = 17$ _____
 $9 + 1 + 5 = 12$ _____
 $10 + 4 + 3 = 17$ _____
 $12 + 3 + 2 = 19$ _____
 $19 + 1 + 0 = 20$ _____
 $10 + 3 + 5 = 18$ _____
 $13 + 3 + 4 = 19$ _____
 $6 + 4 + 8 = 18$ _____
 $5 + 5 + 4 = 15$ _____
 $8 + 2 + 6 = 16$ _____





10. Vyfarbi a zapíš počet







11. Spoj čísla od 1 do 20. obrázok vyfarbi.



Ako sa ti pracovalo?

